

15-1 新しい漢字 (問・式・等・両・倍・短)

24+8=
直角はどこですか。


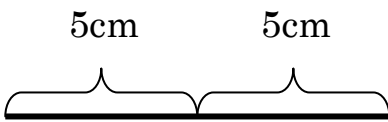
漢字の読み方を
ひらがなで書きな
い。

温度
記号

問題

もん だい

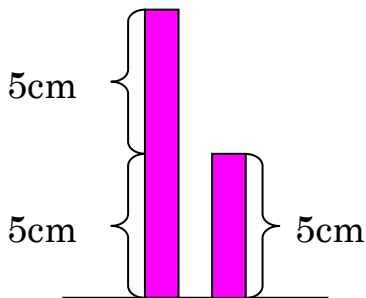
ปัญหา



等しい

ひと し い

เท่ากัน



二倍

に ばい


2 เท่า

26 + 13 =
52 - 35 =
6 × 9 =
25 ÷ 5 =

式

し き

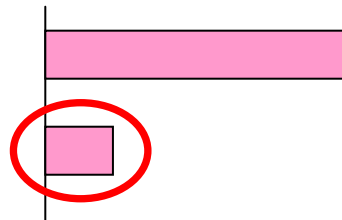
สูตร



両方

りょう ほう

ทั้งคู่



短い

みじ かい

สั้น

15-2 読めるかな？（問・式・等・両・倍・短）

●（ ）の中に ひらがなで 漢字の 読みかたを 書いて ください。

$24 + 8 =$
 直角はどこですか。

問題

（ ）

$26 + 13 =$
 $52 - 35 =$
 $6 \times 9 =$
 $25 \div 5 =$

式

（ ）

5cm

 5cm

等しい

（ ）しい

両方

（ ）

5cm

 5cm

二倍

（ ）

5cm

短い

（ ）い



15-3 書けるかな？（問・式・等・両・倍・短）

	丨 丨	丨 丨	丨 丨	丨 丨	丨 丨	丨 丨	丨 丨	丨 丨	丨 丨	丨 丨
問	問	問								
	一 一	一 一	一 一	式 式						
式	式	式								
	ノ 上	ノ 上	ノ 上	ノ 上	ノ 上	ノ 上	ノ 上	ノ 上	ノ 上	ノ 上
等	等	等								
	雨 雨	雨 雨	雨 雨	雨 雨						
両	両	両								
	倍 倍	倍 倍	倍 倍	倍 倍	倍 倍	倍 倍	倍 倍	倍 倍	倍 倍	倍 倍
倍	倍	倍								
	丨 上	丨 上	丨 上	知 知	知 知	知 知	知 知	知 知	知 知	知 知
短	短	短								



15-4 読んでみよう！書いてみよう！（問・式・等・両・倍・短）

●（ ）の中に ひらがなで 漢字の 読みかたを 書いて ください。

①2つの 式（ ）の 答えは等（ ）しい です。

$16+4=20$ $18+2=20$

②テストの ときは、問題（ ）を
よく 読んで 考えましょう。



③両方（ ）の おもさは 同じです。

④わたしの おこづかいは、きょ年は 100 円でした。



ことは 今年 は 200 円です。二倍（ ）に なりました。



⑤さち子さんの かみは 長いですが、けい子さんの
かみは 短（ ）い です。



●□に 漢字を 書いて ください。

もん だい

みじか

①

 の文は

 いです。



しき

ひと

②

 は ちがいますが、答えは

 しいです。

$2 + 8 = 10$

$6 + 4 = 10$

りょう ほう

③

 あわせて 6cm です。

3 cm

に ばい

3 cm

④

 の ながさ です。

10 cm

5 cm

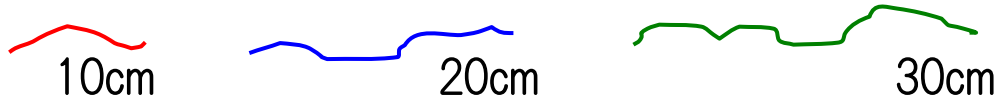
15-5 読めるよ！書けるよ！（問・式・等・両・倍・短）

- 文を読んで、正しいものに ○、まちがっているものに × をつけてください。

$$8 \times 2 = 16 \quad 32 \div 2 = 16$$

- () 2つの 式の 答えは 等しいです。
 () 2つの 式は 同じです。
 () 16 は 8 の 二倍です。
 () 2つの 式は、両方とも かけ算です。

- ひもが 3本 あります。文を読んで () に 答えを 書いて ください。



- 1番長い ひもは () cm です。
 1番短い ひもは () cm です。
 20cm の ひもは、1番短い ひもの () 倍です。
 1番長い ひもは、1番短い ひもの () 倍です。

