



## 指導ポイント&ヒント

### 第7課 「ぶんしょうだい②」

【指導内容】 ①包含除の文章題のパターン

【日本語】 ①A本のBを C本ずつ分けると、何人に分けられるか。  
②A個のBを C個ずつ Dに分けると、いくつのDに分けられるか。

【概念図】

1 「何人分」あるかを求める問題（包含除）を復習する。

「24本の鉛筆を6本ずつ分けると、何人に分けられますか。」

2 分ける物を「折り紙」に変えて、包含除の問題の復習をする。

「24枚の折り紙を3枚ずつ配ると、何人に分けられますか。」

3 分ける物を「縄」に変えて、包含除の問題の復習をする。

「18mの縄を3mずつ切ると、何人に分けられますか。」

4 「何人に」から「何本のテープに」に表現が変わった問題を解く。

「12cmのテープを3cmずつ切ると、何本のテープに分けられますか。」

5 前の問題と同じ文型を使い、数だけを変えた問題を解く。

「12cmのテープを4cmずつ切ると、何本のテープに分けられますか。」

6 前の問題と同じ文型を使い、物と数を変えた問題を解く。

「48cmのひもを8cmずつ切ると、何本のひもに分けられますか。」

7 前の問題と少し違う文型を使い、物と数を変えた問題を解く。

「28個のボールを7個ずつかごに分けると、いくつのかごに分けられますか。」  
→ここに「かご」という1語が加わった。

8 前の問題と少し違う文型を使い、物と数を変えた問題を解く。

「20人を4人ずつの班に分けると、いくつの班に分けられますか。」  
→ここに「の」という1語が加わった。

9 前の問題と同じ文型を使い、数を変えた問題を解く。

「20人を5人ずつの班に分けると、いくつの班に分けられますか。」



7課  
ようごとぶん

Unidad 7  
Palabra y Frase

ようご	Palabra
おりがみ	papel de origami
なわ	cuerda / lazo
きる	cortar
テープ	cinta
ひも	cordón
ボール	bola
かご	cesto / canasto
はん	grupo
いくつ	cuántos

ぶん	Frase
18mのなわを3mずつきると、	Al cortar una cuerda de 18m en partes de 3 m...
いくつのはんにわけられますか。	¿En cuántos grupos se podrá dividir?


# 7 ぶんしょうだい②

「包含除」の文章題

1

「何人に分けられるか」の問題①

24ほんのえんぴつを 6ほんずつ わけると、  
なんにんに わけられますか。



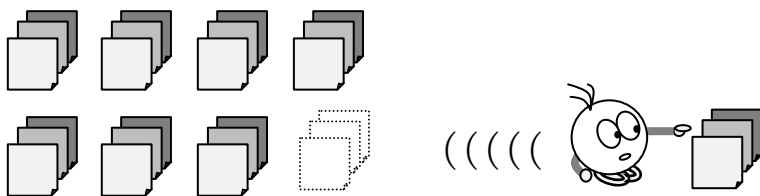
(しき)        ÷        =   

(こたえ)   

2

「何人に分けられるか」の問題②

24まいの おりがみを 3まいずつ くばると、  
なんにんに わけられますか。



(しき)        ÷        =   

(こたえ)

3

18mのなわを3mずつきると、  
なんにんにわけられますか。



(しき)

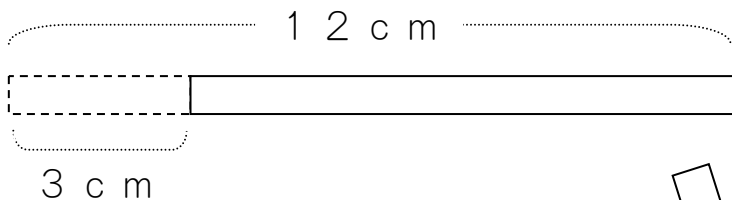
□ □ □ = □

(こたえ)

□



4

12cmのテープを3cmずつきると、  
なんぼんのテープにわけられますか。



3cm

((((('



12cm

わけます

3cmずつ



なんぼん?

(しき)


□ ÷ □ = □

(こたえ)

ほん

5

12cmのテープを4cmずつきると、  
 なんぼんのテープにわけられますか。

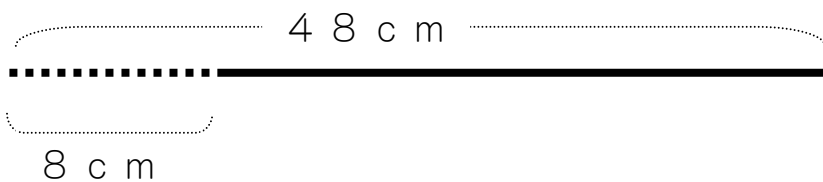


(しき)   $\div$   =

(こたえ)

6

48cmのひもを8cmずつきると、  
 なんぼんのひもにわけられますか。



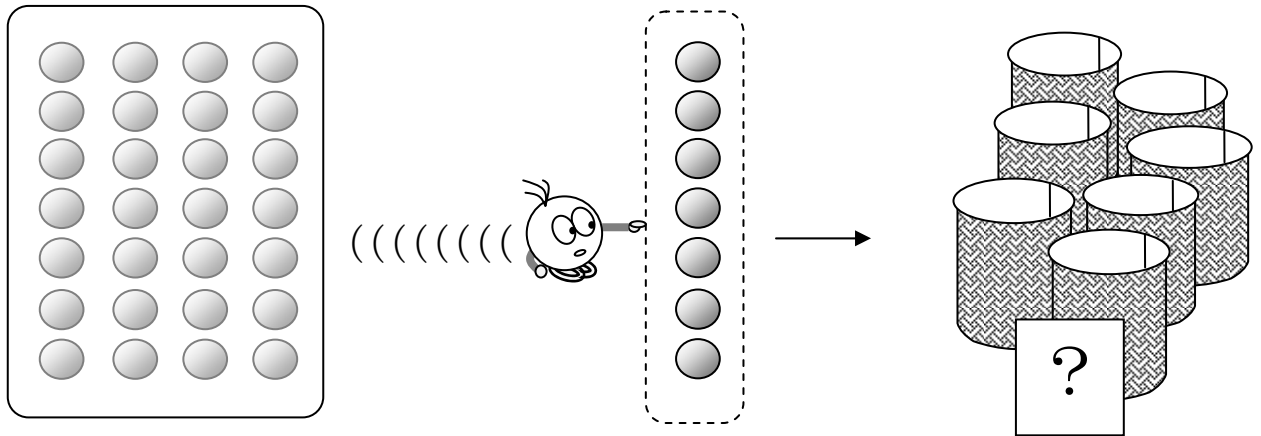
(しき)   $\div$   =

(こたえ)

7

28この ボールを 7こずつ かごに わけると、  
いくつの かごに わけられますか。

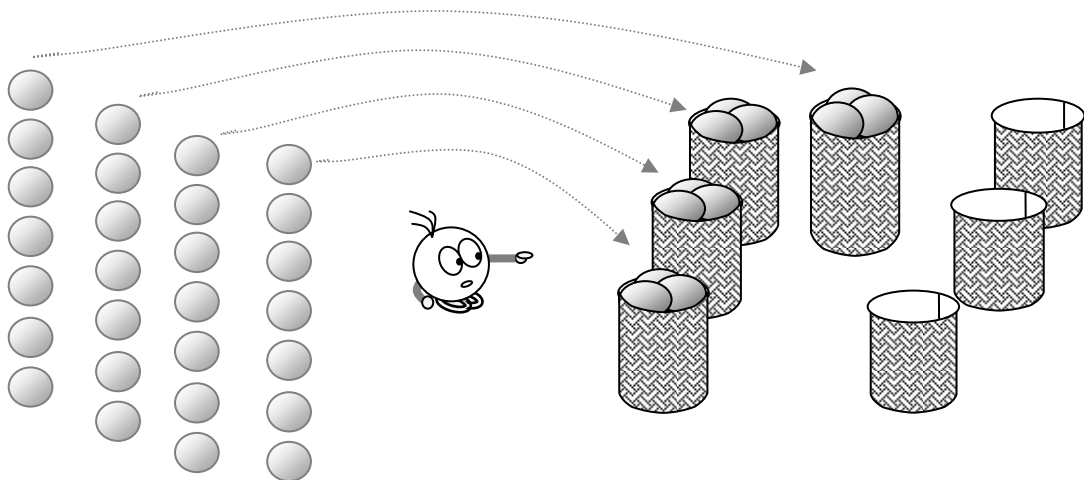
① えをみて、しきをつくりましょう。



28こ      わけます      7こずつ      →      いくつ?

(しき)  ÷  =

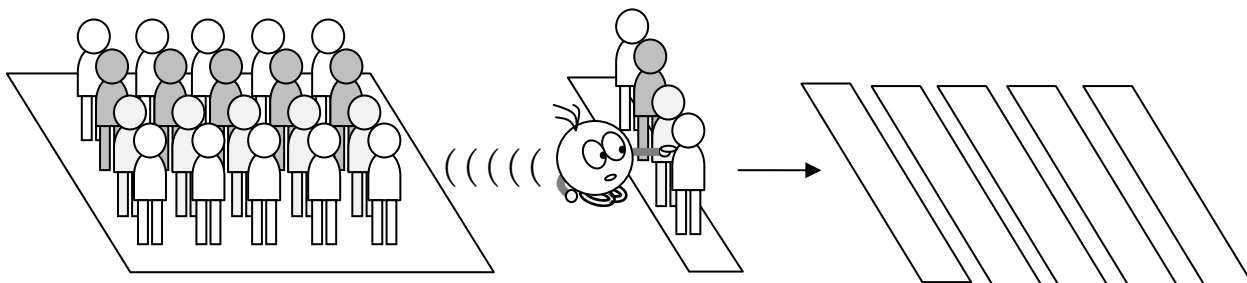
② いくつの かごに わけられますか。



(こたえ)

8

20にんを 4にんずつの はんに わけると、  
いくつの はんに わけられますか。



20にん わけます 4にんずつ → いくつの はん？

(しき)

(こたえ)

9

20にんを 5にんずつの はんに わけると、  
いくつの はんに わけられますか。

20にん わけます 5にんずつ → いくつの はん？

(しき)

(こたえ)