

20-1 新しい かん字 (計・算・数・書・丸・点)

$$\begin{array}{r} 23 \\ +16 \\ \hline \end{array}$$

$$10 - 6 =$$

$$3 \times 5 =$$

$$\begin{array}{ccc} 5 & 1 & 4 \\ & 3 & 2 \end{array}$$



計算

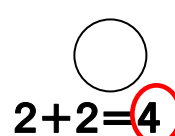
けい さん
cálculo

数

かず
número

書きます

か き ま す
escribir


 $2+2=4$
 ・ ・ ました。

丸

まる
círculo

・ ・ ・ ・ ・
 ・ ・ ・
 ・ ・ ましたが、

点

てん
punto / coma

^{さんすう}
 <算数>
 たし算(ざん) $6 + 3 = 9$
 ひき算(ざん) $5 - 3 = 2$

20-2 読めるかな？（計・算・数・書・丸・点）

●（ ）の中に ひらがなで かん字の 読みかたを 書いて ください。

10-6=
3×5=
2+10=

計算


（ ）

5 1 4
3 2
数

（ ）


書きます

（ ） きます


..ました。

丸

（ ）

.....
...
..ましたが、

点

（ ）



20-3 書けるかな？ (計・算・数・書・丸・点)

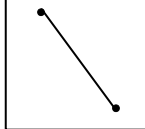
	一	二	三	四	五	六	七	八	九	十
計	計	計								
	竹	竹	竹	竹	竹	竹	竹	竹	竹	竹
算	算	算								
	教	教	数	数	数	数	数	数	数	数
数	数	数								
	書	書	書	書	書	書	書	書	書	書
書	書	書								
	丸	丸	丸							
丸	丸	丸								
	点	点	点	点	点	点	点	点	点	点
点	点	点								

20-4 読んでみよう! 書いてみよう! (計・算・数・書・丸・点)

● () の 中 に ひらがなで かん字の 読みかたを 書いて ください。


① 四角の 中 に、 丸 () を かきます。 

② 新しい かん字を 10回 書 () きます。 

③ 点 () と点を 線で おすびます。 

④ 10-6 はいくつですか。

計算() して ください。 1, 2, 3...

⑤ ケーキの 数 () を かぞえて ください。 

● □に かん字を 書いて ください。

① 大きい

か	ず

 の

けい	さん

 を します。

②

てん	まる

 と

 を 正しく

か	

 きます。

