





# 6 まるは しかくより 2こ おおい

(1位数) - (1位数) / 多少を比較する表現

1

まる     $\frac{7}{5}$  こ

しかく 



まるは おおい。 2 こ おおい。  
 まるは しかくより 2 こ おおい。



2



えをみて、ぶんをいしましょう。

①

  $\frac{9}{5}$   
  $\frac{5}{5}$

まるは おおい。    こ おおい。  
 まるは しかくより    こ おおい。

②

  $\frac{9}{4}$   
  $\frac{4}{4}$

まるは       こ       。

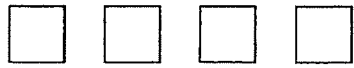
まるは    より    こ       。

3

まるは しかくより なんこ おおいですか。



7 こ



4 こ

しき  $7 - 4 = 3$

こたえ 3 こ

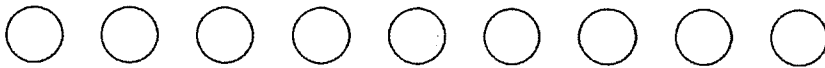
ぶん まるは しかくより 3 こ おおいです。




4

しきと こたえと ぶんを かいて よみましょう。

①



こ



こ

②



こ



こ

③



こ

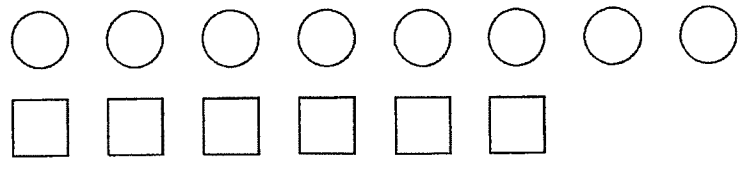


こ

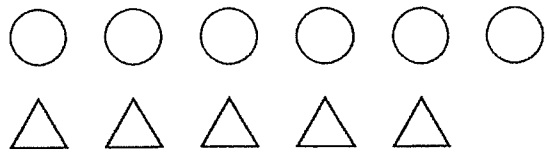
5

しきと こたえと ぶんを かいて よみましょう。

①

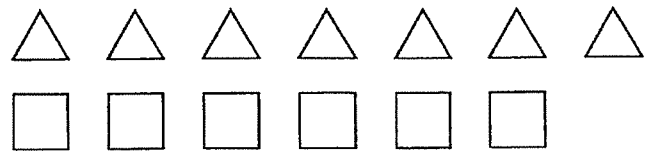



②

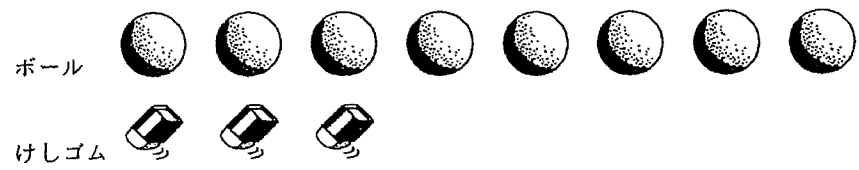


さんかく


③



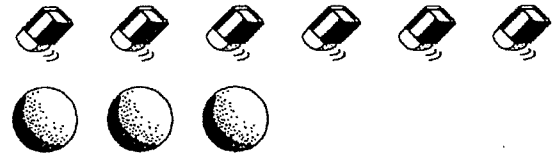

④



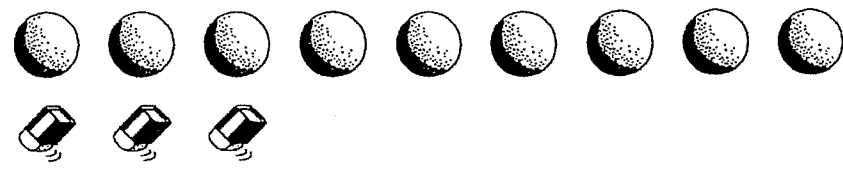
ボール

けしゴム


⑤




⑥




6

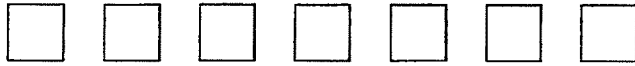
まるは しかくより なんこ すくないですか。



すくない



4 こ



7 こ

しき  $7 - 4 = 3$

こたえ 3 こ


ぶん まるは しかくより 3 こ すくないです。



7

しきと こたえと ぶんを かいて よみましょう。

①



5 こ  
9 こ

②



4 こ  
8 こ

③



4 こ  
9 こ