


15-1 新しい漢字（問・式・等・両・倍・短）

24+8=
直角はどこですか。



漢字の読み方を
ひらがなで書きな
い。

問題


もん だい
questão

26 + 13 =
52 - 35 =
6 × 9 =
25 ÷ 5 =


式

し き
fórmula

5cm 5cm




50 cc 50 cc



等しい

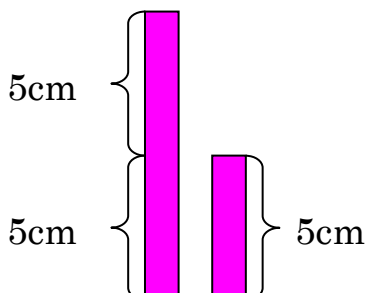
ひと し い
mesmo / igual



両方

りょう ほう
ambos / os dois

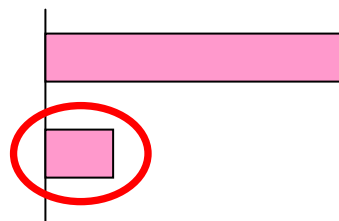
5cm



5cm

二倍

に ばい
duas vezes




短い

みじ かい
curto

15-2 読めるかな？（問・式・等・両・倍・短）

●（ ）の中に ひらがなで 漢字の 読みかたを 書いて ください。

$24 + 8 =$
 直角はどこですか。



問題

()

$16 + 4 = 20$


式

()


3 cm

 3 cm

等しい

()しい

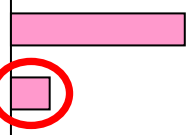

両方

()

10 cm

 5 cm

二倍

()


○

短い

()い

15-3 書けるかな？（問・式・等・両・倍・短）

	丨 丨	冂 冂	冂 冂	冂 冂	門 門	門 門	門 門	問 問	問 問
問	問	問							
	一 一	一 一	式 式	式 式					
式	式	式							
	ノ 上	大 大	大 大	大 大	大 大	大 大	大 大	大 大	大 大
等	等	等							
	雨 雨	雨 雨	雨 雨	雨 雨					
両	両	両							
	倍 倍	倍 倍	倍 倍	倍 倍	倍 倍	倍 倍	倍 倍	倍 倍	倍 倍
倍	倍	倍							
	丨 上	上 上	知 知	知 知	知 知	知 知	知 知	知 知	知 知
短	短	短							

15-4 読んでみよう!書いてみよう! (問・式・等・両・倍・短)

● ()の 中に ひらがなで 漢字の 読みかたを 書いて ください。

① 2つの 式()の 答えは等()しい です。

$16+4=20$ $18+2=20$

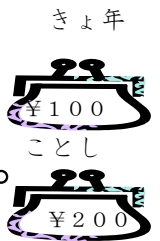
② テストの ときは、問題()を
よく 読んで 考えましょう。



③ 両方()の おもさは 同じです。

④ わたしの おこづかいは、きょ年は 100円でした。

ことは 今年()は 200円です。二倍()に なりました。



⑤ さち子さんの かみは 長いですが、けい子さんの
かみは 短()い です。



● □に 漢字を 書いて ください。

もん だい

みじか

①

 の文は

 いです。



しき

ひと

②

 は ちがいますが、答えは

 しいです。

$2 + 8 = 10$

$6 + 4 = 10$

りょう ほう

③

 あわせて 6cm です。

3 cm

に ばい

3 cm

④

 の ながさ です。

10 cm

5 cm

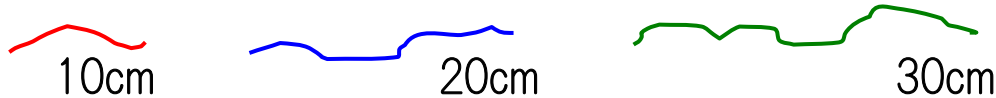
15-5 読めるよ！書けるよ！（問・式・等・両・倍・短）

- 文を読んで、正しいものに○、まちがっているものに×をつけてください。

$$8 \times 2 = 16 \quad 32 \div 2 = 16$$

- () 2つの式の答えは等しいです。
 () 2つの式は同じです。
 () 16は8の二倍です。
 () 2つの式は、両方ともかけ算です。

- ひもが3本あります。文を読んで()に答えをを書いてください。



- 1番長いひもは()cmです。
 1番短いひもは()cmです。
 20cmのひもは、1番短いひもの()倍です。
 1番長いひもは、1番短いひもの()倍です。

